

5-11

79%. 79%



Муниципальный этап
Всероссийской олимпиады школьников по истории
2024-2025 учебного года
Задания. 8 класс

1	2	3	4	5	6	7	8	9	10	11	всего
5	7	6	6	3	10	9	8	16	15	15	100

Уважаемый участник!

При выполнении работы внимательно читайте текст заданий.
Содержание ответа вписывайте в отведённые поля, запись ведите чётко и разборчиво.
За каждый правильный ответ Вы можете получить определённое членами жюри количество баллов, не выше указанной максимальной оценки.

Сумма набранных баллов за все решённые вопросы – итог Вашей работы. Максимальное количество баллов – 100.
Задания считаются выполненными, если Вы вовремя сдали их членам жюри.

Время на выполнение работы – 90 минут.
Желаем успеха!

1. Установите соответствие между определениями и понятиями. Ответ запишите в таблицу. Всего 5 баллов, за каждую правильную позицию 1 балл.

А) кормление пожилое	1) Денежный сбор с крестьян при уходе от феодалов в Юрьев день.
В) Избранная Рада	2) Широкий и плоский кирпич, использовавшийся на Руси для строительства зданий
Г) вира	3) Способ содержания должностных лиц за счет местного населения на Руси до середины XVI века
Д) плинфа	4) Круг приближенных царя Ивана IV Грозного, фактически бывший неофициальным правительством в конце 40-50-х гг. XVI века
	5) Уголовный штраф за убийство в Киевской Руси

А	Б	В	Г	Д
3	1	4	5	2
+	+	+	+	+

55

2. Согласны ли Вы с приведёнными ниже суждениями? Если согласны, напишите «Да», если не согласны – «Нет». Внесите свои ответы в таблицу. За каждый правильный ответ 1 балл (всего 7 баллов).

- Олег – первый исторически достоверный правитель Киевской Руси, объединивший земли славянских племен вдоль пути «из варяг в греки»
- Государство у славян зародилось благодаря влиянию варягов на севере (Новгородская республика), а хазар на юге (Киевская Русь)
- Заморских купцов на Руси называли гостями.
- Формой политической зависимости от Орды был ярлык – грамота, подтверждающая право князя на княжение.
- Иван III поддерживал нестяжателей, потому что иосифляне принижали значение власти государя.
- Река Угра протекает около Астрахани.
- Первый каменный кремль был построен при Дмитрии Донском.

2.1	2.2	2.3	2.4	2.5	2.6	2.7
ga	ga	ga	ga	нет	нет	га
+	-	+	+	-	+	+

58

3. По какому принципу образованы данные логические ряды? За каждый правильный ответ 2 балла (всего 6 баллов).

3.1. Джованни Бокаччо, Франческо Петрарка, Джованни Пико делла Мирандола, Филиппо Брунеллески

авторские Возрождения 2

3.2. 1346 г., 1356 г., 1415 г., 1428—1429 гг

0

3.3. Огнищанин, людин, смерд, закуп, рядович

остальные - крестьяне несвободны 48

4. Исключите лишнее понятие в данном логическом ряду? Ответ подчеркните, выбор объясните. За каждый правильный ответ 3 балла (всего 6 баллов).

4.1. Андрей Рублев, Дионисий, Афанасий Никитин, Феофан Грек

Афанасий Никитин - путешественник 38
Остальные художники

4.2. Паперть, апсида, притвор, неф, алтарь, кариатида

часть православного храма

48

5. Установите правильную последовательность. Ответ запишите в виде последовательности букв в таблицу. Всего 3 балла.

- А) основание Киева;
- Б) принятие христианства киевским правителем;
- В) начало правления варягов в Восточной Европе;
- Г) распад Франкского королевства;
- Д) раскол христианской церкви на католическую и православную.

A B B D

+ + + +

38

6. Определите пропущенные в тексте названия, слова, имена, даты, обозначенные порядковыми номерами. При необходимости при порядковых номерах даются пояснения о характере требуемой вставки Ответ оформите в виде перечня элементов под соответствующими номерами. За каждый правильный ответ 1 балл (всего 10 баллов).

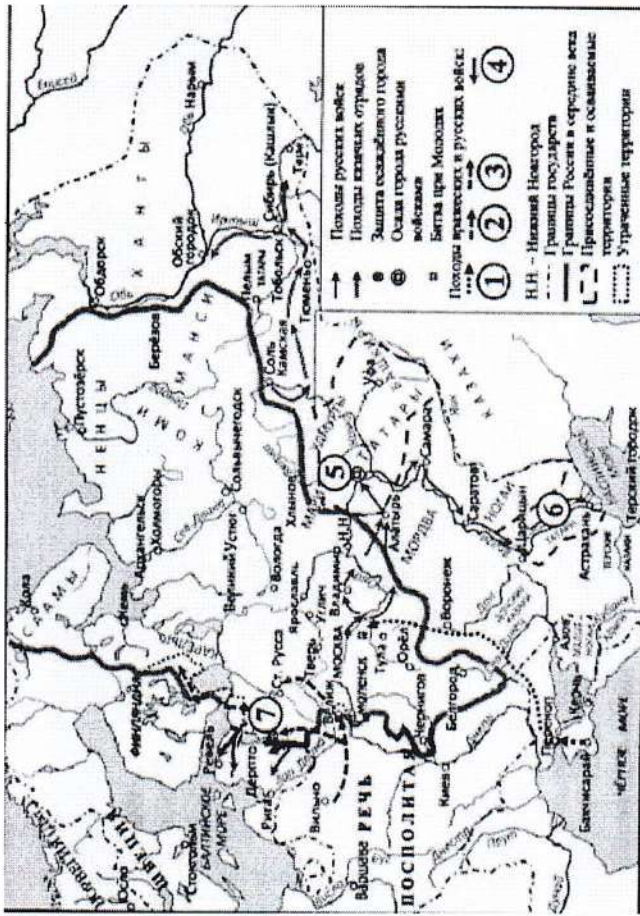
Первый царь из династии (1 - фамилия) взошёл на престол в (2) году по решению Земского собора. На момент избрания ему было около 17 лет, и, конечно, его избрание было компромиссом между противоборствующими группами эпохи Смуты. В (2) году делегация отправилась из Москвы в (3 - название) монастырь, где их встретили сам избранный царь и его мать (4 - монашеское имя). После долгих уговоров (5 - имя первого царя из этой династии) отправился вместе с представителями делегации в Москву. По дороге в Москву он остановился в (6 - название города), в котором (7 - фамилия купца) и (8 - фамилия князя) собрали второе ополчение. Затем побывал в прославленном (9 - название) монастыре, основанном в XIV веке и выдержавшем в эпоху Смуты длительную осаду, которую снял знаменитый полководец (10 - фамилия).

1-	Рюрик	-	6-	Новгород	+
2-	1547	+	7-	Минин	+
3-	-	-	8-	Полсацкий	+
4-	Марфа	+	9-	Троцке-Сергиев	+
5-	Шуйский	+	10-	-	-

78

7. Внимательно рассмотрите карту-схему и выполните задания. (всего 9 баллов).

1) Романовых



1. Заполните пропуск в предложении: «Города, обозначенные на схеме цифрами «5» и «6» вошли в состав Российского государства в середине 16 века». (2 балл) ²⁵

2. Укажите название государства, военные походы которого обозначены в легенде схемы цифрой «2». Новгород (2 балл) ⁰

3. Назовите город, обозначенный на схеме цифрой «7». Новгород (2 балл) ¹

4. Какие суждения, относящиеся к данной схеме, являются верными?

- 1) Битва при Молодях привела к поражению русских войск и последующему захвату Москвы противником.
- 2) Стрелкой, обозначенной в легенде цифрой «1», показано направление движения войск правителя, находившегося в зависимости от Османской империи.
- 3) Храм Вознесения в селе Коломенском был построен по распоряжению государя, ставшего инициатором Ливонской войны.
- 4) Поход, обозначенный на схеме стрелкой , привел к началу освоения русскими Западной Сибири.

5) Цифрой «3» в легенде к схеме обозначен поход, который возглавил Стефан Баторий.

6) Цифрой «4» на схеме обозначены действия русских войск, результатом которых стало присоединение к Московскому государству Смоленска и Чернигова. ²⁵


Ответ: 24 + 45 (3 балла)

8. Перед Вами таблица с именами четырёх русских князей и перечислением ряда признаков. Установите, какие из приведённых признаков соответствуют тем или иным князьям, поставив значок «+» в соответствующие ячейки. (8 баллов)

	Владимир Мономах	Андрей Боголюбский	Александр Невский	Дмитрий Донской
Получил титул великого князя*		+		+
вслед за смертью отца				
Хотя бы раз в жизни ездил в Орду		+	+	
Пал от руки убийц				
Почитается Русской православной церковью как святой		+	+	+

*Учитываются Киевское, Владимирское и Московское великие княжения. Если деятель был великим князем в нескольких местах, учитывается хотя бы одно из них.

9. Перед вами четыре памятника русского зодчества. Выберите из предложенного списка соответствующее каждому из них название, город и век, где и когда они были построены, и правителя, при котором они были построены. Ответы внесите в таблицу. (Каждый правильный ответ – 1 балл, максимальный балл за таблицу – 16).



Буквенное обозначение памятника архитектуры	Название памятника архитектуры	Город	Век	Правитель
А	Золотые Ворота	Владимир	12	Святой Божий
Б	Софийский собор	Новгород	11	Ярослав Мудрый
В	Дмитриевый собор	Владимир	12	Всеволод
Г	Успенский	Москва	15	Иван III

10. Прочитайте документ и ответьте на поставленные вопросы. (максимальный балл – 15)

«...Остался Иоанн с молодых лет (всего около двух лет) без отца, а вскоре и без матери, и воспитывали его гордые бояре, которые, на беду свою и своего потомства, льстили и угождали ему во всё. Еще в раннем возрасте творил он злые дела; а глупые его воспитатели не препятствовали ему, а, напротив, хвалили и поощряли ко всему плохому. Когда же вступил он в своё семнадцатилетие, то бояре стали подучать его мстить своим личным врагам, натравливая его то против одного, то против другого. Бесчинства царя Иоанна можно сравнить с нашествием

...царя казанского, ... от которого терпела Московия кровопролитие и опустошение земель на восемьдесят миль в окрестностях Москвы. От перекопского, крымского и ногайского царей вся Рязанская земля по самый берег реки Оки была опустошена, а внутри разоряема и опустошаема человекоугодниками с молодым царем, нещадно воюющим своё отечество. Иоанн своими бесчисленными злыми делам стал превосходить вышеописанные беды, и тогда Господь, решив усмирить его лютость, подал ему знак, обрушив на Москву великий пожар. Из-за того пожара – разразилось столь великое возмущение всего народа московского, что сам царь принужден был спрятаться со всем своим двором. В том восстании был убит дядя царя, князь Юрий, а двор его разграблен народом, но другой его дядя, князь Михаил, известный своими злоупотреблениями, бежал вместе со своими приспешниками. Таким знаком Бог подал руку помощи земле христианской, дав ей возможность отдохнуть».

Названия	Город	Век	Правитель
Софийский собор	Владимир	XII в.	Всеволод Большое Гнездо
Успенский собор	Москва	XI в.	Ярослав Мудрый
Золотые ворота	Новгород	XV в.	Иван III
Дмитровский собор	Владимир	XII в.	Андрей Боголюбский

160

А. Перед вами картина художника Петра Кривоногова, написанная в батальном жанре (1951). На ней изображён жестокий бой с фашистами, одна из самых трагических страниц Великой Отечественной войны. Где происходят эти события?



Брестская крепость (3 балла)

30

Б. Событие какого дня изображено на картине Михаила Хмелько "Триумф победившей Родины" (1949)?



Парад Победы 1945

(3 балла)

30

1. Назовите царя, о котором идет речь в источнике (правильный ответ - 2 балла)

Иван Грозный 20

2. Назовите отца и мать царя (по 2 балла за каждый правильный ответ, максимальный балл - 4 балла)

Иван Грозный, Елена Глинская 40

3. Укажите год, когда случился «великий пожар», о котором пишет автор? В чем автор видит причину «великого пожара» (выпишите цитату из текста)? (за правильно указанный год - 1 балл, за указание причины - 2 балла, максимальный балл - 3 балла)

1547 10

4. С какими бедами сравнивает автор «бесчинства» молодого царя? Укажите 2 сравнения и выпишите их. (по 2 балла за каждое указанное сравнение, максимальный балл - 4 балла)

нашествие хана Казанского 20


5. Как этот человек связан с владимирским краем? (до 2 баллов)

Александров был столицей опричнины 20

11. Вспомните важнейшие события истории нашего Отечества и выполните задания. (15 баллов)

110

В. Укажите народное название, которое получило данный вид боевой техники в период Великой Отечественной войны.



Камюш (3 балла)

30

Г. Их имена знают не только жители нашего города, но и страны. 6 баллов.



1. Левитас Юри



2. Тастема

1. Назовите имена героев.

1. Левитас Ю (1 балл)
2. Тастема Ю (1 балл)

20

2. Какой след они оставили в истории. Расскажите об их вкладе в Победу.

1. Доктор гетавший сводки о (2 балла) 20

Своих действях

2. Совершил ожектвей (2 балла) 20
такан.

79

Максимальный балл за работу – 100.