

Муниципальный этап
Всероссийской олимпиады школьников по истории 2023-2024 учебного года

Задача. 8 класс

1	2	3	4	5	6	7	8	9	10	всего
6	22	6	10	8	9	10	12	8	9	100
4	4	10	10	4	5	7	12	1	9	595

Уважаемый участник!

При выполнении работы внимательно читайте текст заданий.
Содержание ответа вписывайте в отведённые поля, запись ведите чётко и разборчиво.

За каждый правильный ответ Вы можете получить определённое количество баллов, не выше указанной максимальной оценки. Сумма набранных баллов за все решённые вопросы – итог Вашей работы.
Максимальное количество баллов – 100.

Задания считаются выполненными, если Вы вовремя сдали их членам жюри.

Время на выполнение работы – 90 минут.

Желаем успеха!

Задание 1. Выберите по **ОДНОМУ** верному ответу в каждом задании и занесите выбранные ответы в таблицу.

1.1. О каком восточнославянском племени в летописи сказано: «... иже сидят на верх Волги, и на верх Двины, и на верх Днепра, их же и город есть Смоленск?»

- А. Вятичи.
- Б. Дреговичи.
- В. Кривичи.
- Г. Поляне.

1.2. О каком сражении говорится в следующем описании:

«...Святослав созвал знаменитых мужей... Когда он спросил собравшихся к нему, что должно делать; тогда некоторые из них советовали... сесть на суда и спастись бегством... Другие, напротив того, советовали примириться с римлянами и таким образом, взявши с них клятву в верности, сохранить по крайней мере остаток войска: ибо трудно, говорили они, тайно уплыть, когда огненные корабли с обеих сторон стоят у берегов и стерегут наши суда... Тогда Святослав, вздохнув от глубины сердца, сказал: «Логичней слава, сопутница русского оружия, без труда побеждавшего соседние народы...; если мы теперь постыдно уступим римлянам... У нас нет обычая бегством спасаться в отечество, но или жить победителями или, совершивши знаменитые подвиги, умереть со славой?»

- А. Осада Константинополя 907 г.
- Б. Битва при Доростоле 971 г.

- В. Осада Корсуня 988 г.
- Г. Сражение близ Баку 1031 г.

1.3. Какой из этих храмов был построен в домонгольский период?

- А. Храм Спаса на Нередице (Новгород).
- Б. Успенский собор (Дмитров).
- В. Троицкий собор Троице-Сергиевой Лавры.
- Г. Успенский собор на Горшке (Звенигород).

1.4. Кто из участников междоусобной войны второй четверти XV в. смог стать великим князем Московским?

- А. Василий I
- Б. Дмитрий Шемяка.
- В. Софья Витовтовна.
- Г. Дмитрий Красный.

1.5. В каком из представленных документов впервые приводилось данное положение: «О переходе крестьян разрешается переходить из волости в волость, из села в село лишь в течение одного срока в году; за неделю до осеннего Юрьева дня и неделю после?»

- А. «Русская Правда».
- Б. Песковская судная грамота.
- В. Судебник Ивана III.
- Г. Царский судебник.

88

1.6. Вокруг какой крепости развернулись основные боевые действия в ходе первой русско-турецкой войны (правление Федора Алексеевича)?

А. Азов. Б. Измаил. В. Очаков. Г. Чигирин.

1.1	1.2	1.3	1.4	1.5	1.6
1	1	0	0	1	1

4/5

За каждый верный ответ – 1 балл. Итого – 6 баллов.

Задание 2.

Соотнесите события отечественной и всеобщей истории. Ответ оформите в виде таблицы, расположив события в хронологической последовательности, начиная с наиболее ранних.

Событие отечественной истории	Событие всеобщей истории
А. Строительство красного кирпичного Кремля в Москве I	1. Первое кругосветное плавание Магеллана
Б. Соляной бунт в Москве	2. Варфоломеевская ночь в Париже
В. Завершение правления Ярослава Мудрого	3. Открытие Америки Колумбом
Г. Завершение опричнины	4. Завершение Столетней войны
Д. Правление Симеона Гордого	5. «Великая схизма» католической и православной церквей
Е. Правление Михаила Федоровича	6. Суд над Джордано Бруно
Ж. Правление Бориса Годунова	7. Деятельность кардинала Ришелье
З. Восстание под предводительством Степана Разина	8. Завершение Тридцатилетней войны
И. Завершение «Феодальной войны» за московский престол	9. Строительство Версали
К. Присоединение Рязани к Москве	10. «Черная смерть» в Западной Европе

Буква	1	2	3	4	5	6	7	8	9	10
Цифра	1	2	0	0	2	0	0	0	0	0

4/5

По 2 балла за каждый правильный ответ (верное соотнесение буквы с цифрой, даже при неправильной последовательности). Максимум 20 баллов.

Плюс 2 балла за полностью верную хронологическую последовательность (таблица заполнена полностью верно!).

Задание 3. Какие из перечисленных герминов были известны в домонгольской Руси? Выберите (подчеркните) несколько вариантов (6 баллов за полностью верный ответ).

Полудье, пищаль, фядлович тигун, стрелец, крестьянин, дествица, вече.

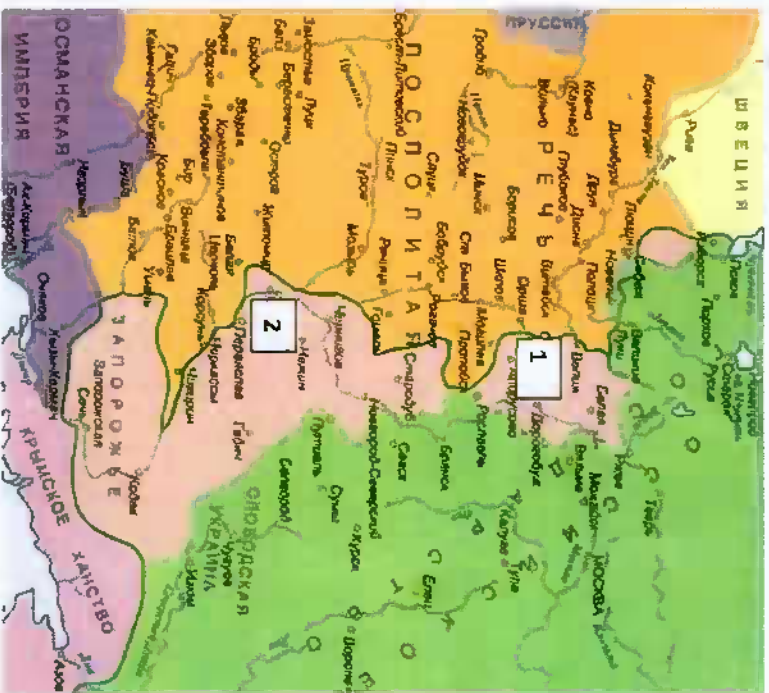
Задание 4. Соотнесите событие и современника (2 балла за каждое соответствие, максимумально – 10 баллов).

1	Строительство Преображенского собора в Переклывле Залесском	А	Марфа Борецкая
2	Переход Ярославского княжества под власть московского князя	Б	Ольгера
3	Учреждение стрелцкого войска	В	Ярослав Осмомысл
4	Строительство каменных укреплений московского Кремля	Г	Александр Невский
5	Переплыв населения русских земель ордынскими численниками	Д	Андрей Курбский

1	2	3	4	5
4	2	2	2	2

2/105

Задание 5. Внимательно изучите представленную ниже карту и ответьте на вопросы к ней.



1. Назовите войну, в результате которой произошли изменения границ указанных на карте государств. Укажите ее даты (начало и окончание) до года, т.е. хронологические рамки (2 балла)

Турко-польская война 1633-1654 85

2. Каким перемирием (название) закончилась эта война? (1 балл)

Андрусовское перемирие

3. Какие два города (важных, больших и древних) перешли от одного государства участника этой войны к другому по этому перемирию? Города обозначены на карте цифрами «1» и «2» (2 балла)

Города: «1» Сиверск 2
 «2» Сватоват Киев

4. Какой мирный договор закрепил итоги данной войны? (1 балл)

85

5. Какой известный государственный деятель представлял интересы Российского государства при заключении указанного перемирия? (2 балла)

д. Андрей Кольцов 2 70

Задание 6. Прочитай текст, расмотри иллюстрацию и вырази мнение.

И вот наступила ночь на 14 октября — под праздник Покрова Пресвятой Богородицы. Казаки написали прощальное письмо царю, попрощались друг с другом и пошли в последний бой. Их натиск был столь решительным, что участники вылазки захватили вражеский лагерь, в котором нашли большие трофеи.

Но вести длительную войну были не в состоянии. Тогда казаки отправили посольство к царю Михаилу Федоровичу с просьбой взять крепость под «высокую государеву руку».



1. Какое событие запечатлено на картине? Обязательно назовите крепость, которая изображена на картине (2 балла)

Севен Сивкавал Диванкин Фаражаканская крепость 0
 2. Укажите датировку (с точностью до года) указанных событий (2 балл)

1632-1639, 20

3. Укажите противоборствующие силы в этом событии (1 балл)
Киевляне, Святослав Яромир и Ярослав Ярославич - 2

4. Какую позицию по отношению к этому событию заняло Российское государство? Дайте характеристику этой позиции (2 балла)

5. Чем завершилось это событие? Охарактеризуйте его итоги. (2 балла)
Я. Мстислав Яромир сжег город восточнее и южнее Киева

Итого - 9 баллов

Задание 7. Внимательно изучите представленный ниже отрывок из документа и ответьте на вопросы к нему (10 баллов).

«В лето 6532. Пошел Мстислав на Ярослав с хазарами и касогами. В лето 6532. Когда Ярослав был в Новгороде, пришел Мстислав из Тмутаракани в Киев, и не приняли его киевляне. Он же пошел и сел на стол в Чернигове; Ярослав же был тогда в Новгороде. В тот же год восстали волхвы в Суздалье; по дьявольскому наущению и бесовскому действию избивали старшую чадь, говоря, что держат запасы. Был мятеж великий и голод по всей той стране; и пошли по Волге все люди к болгарам, и привезли хлеба, и так ожили. Ярослав же, услышав о волхвах, пришел в Суздаль; захватив волхвов, одних изгнал, а других казнил, говоря так: «Бог за грехи посылает на всякую страну голод, или мор, или засуху, или иную казнь, человек же не знает, за что». И возвратившись, пришел Ярослав в Новгород, и послал за море за варягами. И пришел Якун с варягами, и был тот Якун красив, и плащ у него был золотом выткан. И пришел к Ярославу, и пошел Ярослав с Якуном на Мстислава. Мстислав же, услышав, вышел против них к (1). Мстислав же с вечера исполнил дружину и поставил

северян прямо против варягов, а сам стал с дружиною своею по обим сторонам. И наступила ночь, была тьма, молния, гром и дождь. И сказал Мстислав дружине своей: «Пойдем на пих!» И пошли Мстислав и Ярослав друг на друга, и схватились северяне с варягами... И была сеча сильна и страшна. И когда увидел Ярослав, что терпит поражение, побежал с Якуном, князем варяжским, и Якун потерял тут свой плащ золотой. Ярослав же пришел в Новгород, а Якун ушел за море... И послал Мстислав за Ярославом, говоря: «Сядись в своем Киеве: ты старший брат, а мне пусть будет эта сторона Днепра».

1. Вспомните, от какого события вели счет годам в Древней Руси, и переведите в современное летоисчисление дату «6532 год». Приведите расчеты (2 балла) - 6532 - 5508 = 1024 года от Рождества Христова

2. Какой город Руси Ярослав считал наиболее любимым себе, исходя из текста? Почему? (приведите не менее одного положения) (2 балла)
Киев

3. Что послужило непосредственной причиной восстания в Суздальской земле? (1 балл)

4. Почему именно волхвы возглавили восстание в Суздалье? (2 балла)
Потому что в Суздалье не было священнослужителей

5. На территории какого княжества жили упомянутые в тексте «северяне»? Ответ обоснуйте. (2 балла)
Киевское княжество

6. Как Русь была разделена между Ярославом и Мстиславом, согласно документу? (1 балл)

До дела старости Ярослава " Ярославъ съ своею женою и княземъ Мстиславомъ разделиша Русь на три части: одну часть Ярославъ, другую Мстиславъ, третью же оставиша своимъ сыновемъ Владимиру и Ростиславу".

Задание 8. (12 баллов) Перед Вами отрывки из учебника авторства известного советского историка с описаниями ряда исторических событий. Соотнесите каждый фрагмент с иллюстрацией описываемого в нём события. Обратите внимание – две иллюстрации являются лишними.

1. «...Простому народу выставляли всё дело как восстание против иностранцев, против поляков, которые хотят будто бы поработить Россию, а на самом деле воспользовались восстанием для того, чтобы убить царя, который шёл против интересов богатых помещиков и капиталистов»;

2. «Никто из церковных людей и не подумал даже встать на защиту Никона, и оказалось, что какого-нибудь настоящего сопротивителя власти царя никто оказать не мог. А царь, пользуясь своими торговыми связями и денежными средствами, без труда нанял других патриархов, восточных, которые в православной церкви были старше Никона, созвал церковный собор и решением самой церкви осудил человека, который осмелился поддерживать самостоятельность этой церкви против царя»;

3. «...Шведская армия была разбита так же основательно, как за девять лет перед этим московская армия под Нарвой. Роли совершенно переменялись. Из обороняющейся Москва превратилась в наступающую»;

4. «В Тушино переехал на жительство и сам второй Дмитрий. Около него образовался целый двор наподобие московского двора. В Тушине возникла как бы вторая столица, и выжить оттуда казаков и их польские отряды Шуйский уже оказался не в силах»;


5. «...Медные деньги, которых вдобавок начеканили бесчисленное количество, стали быстро падать в цене, а все товары стали дорожать. Это опять вызвало народное возмущение, но романовское правительство оказалось достаточно сильным, чтобы и с ним справиться»;

88

6. «...После целого ряда войн Москва справилась с Новгородом, московский великий князь подчинил себе северные торговые центры (кроме Новгорода, крупное торговое значение приобрёл его «пригород» Псков), сделалась там таким же хозяином, как и на берегах Москва-реки...».




А



Б




В



Г




Д



Е



Ж



З

1	2	3	4	5	6
Ж	Ж	Ж	Ж	Ж	Ж

По 2 балла за каждое верное соотношение.

Всего 12 баллов

Задание 9. [8 баллов]



Заполните пробелы в тексте. Ответ оформите в виде перечня элементов под соответствующими номерами.

На время княжения (1 - имя князя) (2 - даты княжения) приходится успешная война с Волжской Булгарией. В честь одержанной победы по его приказанию неподалеку от его княжеской резиденции (3 - название резиденции) была воздвигнута замечательная церковь (4 - название церкви). Этот князь стремился овладеть и великокняжеским престолом, и Новгородом. Его войска взяли (5 - название города) и учинили там страшный разгром. Однако, в отгнание от своего отца (6 - имя князя), он ставил своей главной целью укрепление собственного (7 - название княжества) княжества. Развернутое при нем активное каменное строительство также призвано было подчеркнуть его могущество. В годы его княжения в новой столице княжества (8 - название города) по примеру Киева были построены (9 - название архитектурного памятника) и (10 - название собора) собор. В результате заговора он был убит своими приближенными. В борьбе за власть между его младшими братьями победил (11 - имя князя) по прозвищу (12 - прозвище). Этот князь завещал престол не старшему своему сыну, а второму - (13 - имя князя). Этому

- князю было суждено погибнуть в битве с монголами на реке (14 - название реки) в (15 - год).
- 1) Александр Невский, 1
 - 2) _____
 - 3) Александр Невский, 1
 - 4) Ипатьевский собор
 - 5) _____
 - 6) _____
 - 7) _____
 - 8) _____
 - 9) _____
 - 10) _____
 - 11) _____
 - 12) _____
 - 13) _____
 - 14) _____
 - 15) _____

Задание 10. Вспомните важнейшие события истории нашего Отечества и выполните задания. (9 баллов)

А. Рассмотрите фотоматериал и ответьте на вопросы. 3 балла



1. Какое событие изображено под номером 1 и 2
Победа в Сталинграде 1945
2. Когда, где и по какому поводу оно проходило?
1945 - Коммунистическая партия Украины День
3. Кто принимал парад, назовите имя полководца?
Варшавский Жук

Б. Их имена знают не только жители нашего города, но и страны. 6 баллов.



1



2

1. Назовите имена

героев. 1. _____ 2. _____

2. Какой след они оставили в истории. Расскажите об их вкладе в Победу.

1. _____

2. _____

0