

ВСЕРОССИЙСКАЯ ОЛИМПИАДА ШКОЛЬНИКОВ
ПО ИСТОРИИ 2020–2021 учебный год

МУНИЦИПАЛЬНЫЙ ЭТАП

9 класс

Критерии и указания

к оцениванию.

Максимальное количество баллов за работу -100.

Часть 1.

В заданиях 1–3 дайте один верный ответ. Ответ внесите в таблицу.

1. В каком году от Рождества Христова произошло описанное ниже событие?

«Мая в 15 день в осмом часу дни в набат ударили, и прииде вестник из государевых царских полат ко стрелцам: «Вы, стрелцы государевы, не знаете, что во царских полатах учинилася, утухла у нас звезда поднебесная, не стало болшаго брата государева царевича Ивана Алексеевича». И тогда собравшеся стрелцы со знаменами и со оружием, пришли в Кремль к полатам государевым, и шли в полаты безобшибочно, и учили вопить и кричать со слезами великими умильными гласы жалостно: «Свет ты наш, ... Петр Алексеевич, объяви ты нам своего государева брата царевича и великого князя Иоанна Алексеевича, жив ли есть или мертв!».

1. 7197
2. 7190
3. 7206
4. 7213

2. В каком году произошло событие, о котором говорится в отрывке из текста

«И во всех городех и в уездех во всяких людех, от мала и до велика, таж мысль: что быти на Московском государстве государем царем Михайлу Федоровичю Романовичю, а опроче его, великого государя, никак никого на Московское государство не хотети»

1. 1613 г.
2. 1619 г.

3. 1620 г.

4. 1648 г.

3. Как называется документ, отрывок из которого представлен ниже?

«Кто имеет сыновей и ему же, аще хошет, единому из оных дать недвижимое, чрез духовную, тому в наследие и будет. Другие же дети обоего полу да награждены будут движимыми имениями, которые должен отец их или мать разделить им при себе, как сыновьям, так и дочерям, колико их будет, по своей воли, кроме одного, который в недвижимых наследником будет. А ежели у одного сыновей не будет, а имеет дочерей, то должених определить таким же образом. А буде при себе не определит, тогда определится указом недвижимое по первенству большому сыну в наследие, а движимое другим равную частию разделено будет».

1. указ о единонаследии
2. наказ Екатерины II
3. Манифест о вольности дворянства
4. табель о рангах

Ответ:

1	2	3
2	1	1

По 1 баллу за каждый верный ответ. Всего 3 балла

4. Установите соответствие между названиями городов и именами правителей, при которых эти города были основаны. Запишите в таблицу выбранные цифры под соответствующими буквами.

ГОРОДА	ПРАВИТЕЛИ
А) Севастополь	1) Юрий Всеволодович
Б) Таганрог	2) Юрий Долгорукий
В) Дмитров	3) Иван III
Г) Ярославль	4) Екатерина II
Д) Нижний Новгород	5) Ярослав Мудрый
	6) Петр I

Ответ:

А	Б	В	Г	Д
4	6	2	5	1

По 1 баллу за каждое верное соотнесение. Всего 5 баллов.

5. Рассмотрите иллюстрацию и выполните задания.

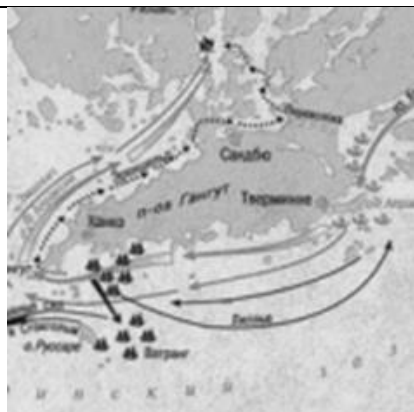


1. Как называется данный вид бумажных денег?
2. В каком году начался выпуск таких денег в России?
3. Кто правил в то время государством?
4. Какое учреждение было создано в связи с выпуском данных ценных бумаг?
5. Возможен ли был обмен данных ценных бумаг на монеты?
6. Из предложенных ниже изображений, выберите и запишите порядковые номера относящихся по смыслу к правлению монарха, имя которого Вы указали в пункте 3. Дайте объяснение Вашему выбору.



1


2



3



4



Ответ:

1. *Ассигнация*
2. *В 1769 году*
3. *Екатерина II*
4. *Государственный ассигнационный банк*
5. *Да, возможен*
6. 1 (*Екатерина II первой в России сделала прививку от оспы*); 4 (*Взятие Измаила состоялся 11 декабря 1790 года в ходе сражения русская армия под командованием А.В. Суворова одержала победу*).

За каждый верный ответ на вопросы 1 – 5 по 1 баллу; За ответ на 6 вопрос – 2 балла.

Всего 7 баллов.

6. Определите пропущенные в тексте названия, слова, имена, даты, обозначенные порядковыми номерами. При необходимости при порядковых номерах даются пояснения о характере требуемой вставки. Необходимые вставки впишите под соответствующими номерами в таблицу в бланке работы.

«(1 – название) веком» XVII столетие называют не случайно. Оно было отмечено острыми социальными конфликтами, множеством народных выступлений. Протест (2 – представители полурегулярного войска) против невыплаты жалованья слился с недовольством посада, возмущенного злоупотреблениями служащих, и дворян, требовавших отменить урочные годы, прикрепить (3 – социальный слой) к земле.

Череду городских восстаний открывает (4 – название) бунт 1648 г. Бунт принял столь острые формы, что вынудил (5 – имя царя) отдать на расправу ненавистных сановников, отправить в ссылку главу правительства – боярина (6 – фамилия) и срочно созвать (7 – орган власти), принять новый свод законов (8 – документ).

В (9) году вспыхнули восстания в Новгороде и (10 — название города). Протестуя против роста цен, а также решения расплатиться по долгам со (11 – название государства) передачей ей хлебных запасов, горожане отстранили от власти царских воевод, учредили выборное управление во главе с земскими старостами и направили

челобитчиков в (12 – название города). Ответом стало прибытие правительственных войск и подавление протеста.

Последним крупным городским восстанием был (13 – название) бунт в Москве в (14) году, вызванный неудачной денежной реформой. Восстание происходило в период войны с (15 – название государства). Погромы боярских дворов, появление возбужденных челобитчиков перед царем в селе (16 – название), жестокая расправа и публичные казни – таковы итоги этого бунта.

Ответ:

1	<i>Бунташным</i>	9	<i>1650</i>
2	<i>стрельцов</i>	10	<i>Пскове</i>
3	<i>крестьян</i>	11	<i>Швецией</i>
4	<i>Соляной</i>	12	<i>Москву</i>
5	<i>Алексея Михайловича</i>	13	<i>Медный</i>
6	<i>Морозова</i>	14	<i>1662</i>
7	<i>Земский собор</i>	15	<i>Польшей (Речью Посполитой)</i>
8	<i>Соборное уложение</i>	16	<i>Коломенском</i>

За каждый верный ответ по 1 баллу. Всего 16 баллов.

7. О каких исторических деятелях говорят источники:

1. Молод, разумом еще не дошел и нам будет поваден (из письма князю Голицыну).

2. «Повадился волк к овцам, перетаскает все стадо, пока не убьют его» (из летописи).

3. «А нынешнего царя обрели на царство... потому что разумели его гораздо тихим, и потому пишется самодержцем и государство свое правит по своей воле».

Ответ:

1. О молодом царе Михаиле Федоровиче Романове
2. Эти слова были сказаны о князе Игоре. Произнесены они были на совете древлян по поводу княжеских действий, когда в ходе сбора дани (полюдья) он принял решение вторично взять дань с древлян. Малая дружина князя была перебита, а князь был казнен.
3. О царе Алексее Михайловиче «Тишайшем».

По 2 балла за каждого верно названного исторического деятеля. Всего 6 баллов.

8. Какие исторические деятели получили данные эпитеты:

<i>эпитет</i>	<i>исторический деятель</i>
Таврический	<i>Князь Г.А. Потемкин</i>
Красное Солнышко	<i>Князь Владимир</i>
Тишайший	<i>Царь Алексей Михайлович</i>
Великий	<i>Царь Петр I</i>
Чесменский	<i>Граф А.Г. Орлов</i>

По 1 баллу за каждое верное соотнесение. Всего 5 баллов.

9. Применительно к каждому изображенному ниже памятнику укажите:

- 1) его название,
- 2) место расположения (город),
- 3) скульптор,
- 4) время создания (с точностью до половины столетия) постройки памятника.

Ответ:



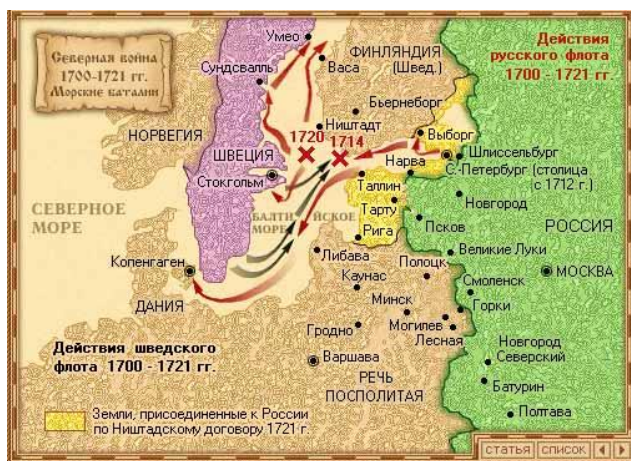
Ответ:

А. Памятник Петру I «Медный всадник» в г. Санкт- Петербург, скульптор Э. Фальконе, время создания (открытия) – 1782 год.

Б. Памятник «Тысячелетие России» . Поставлен в Великом Новгороде в 1862 году по проекту скульптора М.О.Микешина

по 1 баллу за каждый из перечисленных элементов ответа, 4 балла за полный ответ по каждому памятнику. Всего за задание 8 баллов.

10.Выполните задания по карте (по 4 балла за каждое верно выполненное задание, максимальный балл – 12).



- 1) Укажите, какие события Северной войны обозначены крестиками с указанием дат: 1714 и 1720;
 1714 – битва у мыса Гангут; 1720 – битва у мыса Гренгам.
- 2) Обозначьте на карте место (поставьте значок X), где был заключен мирный договор по итогам Северной войны, напишите название этого места.
 Ништадт
- 3) Отметьте на карте место, соответствующее описываемому в тексте событию:
 «Когда шведы ворвались в лагерь, в рядах испуганных русских солдат раздались крики: «Немцы изменили!» Эти страшные крики отняли последние силы, и все бросились бежать».
 поражение под Нарвой (Нарвская конфузия).

по 3 балла за каждое верно выполненное задание, максимальный балл – 9.

11. Как известно, существует множество календарных систем. Попыток реформировать календарь на протяжении истории предпринималось немало. Естественно, они нарушали сложившийся порядок счета времени. Ниже приведен один из самых известных примеров таких нарушений.

1. Назовите дату, наступившую вслед за той, что определялась по старому календарю.
2. Кратко, несколькими словами, объясните, кем, с какой целью было принято решение об изменении календаря.

А) После 31 декабря 7208 г. в России наступило

Ответ:

А) 1 января 1700 года согласно указу Петра Великого о празднования Нового года 1 января и переходе от византийской к западноевропейской системе летоисчисления. С этого времени счет лет ведется не от сотворения мира, а от рождества Христова.

Правильный ответ принимается в комплексе: дата и объяснение.

За каждую правильную часть вопроса по 3 балла, максимальный балл – 6.

12. Установите верность или ложность утверждений (ДА или НЕТ), свой ответ занесите в таблицу


1. Александр Невский был похоронен во Владимире
2. М.М. Сперанский учился в Суздальской церковно-приходской школе
3. Андрей Рублев расписал своды Успенского собора во Владимире в 1408 году
4. В годы Великой Отечественной войны на средства муромлян был построен бронепоезд «Илья Муромец»
5. Церковь Покрова на Нерли построена из розовой плинфы.

Ответ:

1	2	3	4	5
да	нет	да	да	нет

за каждый верный ответ 1 балл, максимальный балл - 5.

13. Перед Вами здания, возведенные в XII веке на территории одного из древнерусских княжеств.



- 1) Назовите любые три города, относившихся к этому княжеству в указанный период.
- 2) Перечислите в исторической последовательности трех правителей этого княжества в указанный период.

Ответ:

1. *Владимир, Суздаль, Ростов (могут быть названы другие города) - 2 балла за правильный ответ.*
2. *Ю. Долгорукий, А. Боголюбский, Всеволод III Большое Гнездо (возможен вариант: А. Боголюбский, князь Михалко (Михаил Юрьевич), Всеволод III Большое Гнездо) - 3 балла за правильный ответ.*

Всего 5 баллов.

Часть 2.

Одна из самых важных сторон деятельности историка – анализ источника, умение извлечь из него необходимую информацию.

Внимательно изучите представленный ниже фрагмент исторического источника и выполните задания.

«В прошедшую с Портой Оттоманской войну, когда силы и победы оружия нашего давали нам полное право оставить в пользу нашу Крым, в руках наших бывший, мы сим и другими пространными завоеваниями жертвовали тогда возобновлению доброго согласия и дружбы с Портой Оттоманской, преобразив на тот конец народы татарские в область вольную и независимую...

Но ныне, когда, с одной стороны, приемлем в уважение употребленные до сего времени на татар знатные издержки, простирающиеся за двенадцать миллионов рублей, не включая тут потерю людей, которая выше всякой денежной оценки; с другой же, когда известно нам учинилось, что Порты Оттоманская начинает исправлять верховную власть на землях татарских, и именно... чиновник ее, с войском прибывший, присланному к нему от ШагинГирея хана с вопрошенном о причине его прибытия, публично голову отрубить велел и жителей тамошних объявил турецкими подданными... Поступок сей уничтожает прежние наши взаимные обязательства о вольности и независимости татарских народов... и поставляет нас во все те права, кои победами нашими в последнюю войну приобретены были и существовали в полной мере до заключения мира. И для того, по долгу подлежащего нам попечения о благе и величии отечества, стараясь пользу и безопасность его утвердить, как равно полагая средством навсегда отдаляющим неприятные причины, возмущающие вечный мир между империями Всероссийской и Оттоманской заключенный, который мы навсегда сократить искренно желаем, не меньше же и в замену и удовлетворение убытков наших решились мы взять под державу нашу полуостров Крымский, остров Тамань и всю Кубанскую сторону.

Возвращая жителям тех мест силою сего нашего Императорского Манифеста таковую бытия их перемену, обещаем свято и непоколебимо за себя и преемников престола нашего, содержать их наравне с природными нашими подданными, охранять и защищать их лица, имущество, храмы и природную веру, коей свободно отправление со всеми законными обрядами пребудет неприкосновенно; и дозволить напоследок каждому из них состоянию все те прелести и преимущества, каковыми таковое в России пользуется; напротив чего от благодарности новых наших подданных требуем и ожидаем Мы, что они в счастливом своем презрении из мятежа и неустройства в мир, тишину и порядок

законный потщатся верностью, усердием и благонаравием уподобиться древним нашим подданным и заслуживать наравне с ними монаршую нашу милость и щедроту».

1. Назовите территорию, присоединение которой к Российской империи утвердил данный документа. Напишите, в каком году был издан данный документ.
2. Укажите имя российского монарха, подписавшего документ, а также годы его правления.
3. Каковы были причины присоединения к Российской империи новой территории? Найдите в тексте и укажите три положения.
4. Какие обязательства брал на себя монарх в отношении присоединенных народов? Опираясь на текст, укажите три положения.
5. Найдите в тексте и выпишите фрагмент, показывающий ожидания монарха в отношении своих новых подданных. Опираясь на собственные знания, объясните, почему воплощение этих ожиданий в жизнь представляет для монарха особую важность.

Ответ

1. Крымский полуостров (2 балла), 1783 г. (2 балла). **Всего 4 балла.**
2. Екатерина II (2 балла), 1762–1796 гг. (2 балла). **Всего 4 балла.**
3. Могут быть приведены следующие положения из текста:
 - нарушение Османской империей договоренности о независимости Крыма;
 - произвол османского чиновника в отношении жителей Крыма;
 - материальные издержки и человеческие жертвы, принесенные Российской империей во время предыдущей войны;
 - стремление ликвидировать причины, нарушающие мир в отношениях Российской и Османской империи;
 - забота о благе, величии, пользе и безопасности России;
 - победа России в русско-турецкой войне «и составляет нас во все те права, кои победами нашими в последнюю войну приобретены были и существовали в полной мере до заключения мира»

По 2 балла за каждое верно найденное подтверждение. Всего 6 баллов.

4. Могут быть приведены такие аргументы:
 - гарантируется, что данные условия будут соблюдаться последующими правителями
 - жители новой территории получают те же права, что и жители всего государства;
 - монарх обещает охранять и защищать лица (личность) и имущество новых подданных;
 - монарх обещает свободное отправление религиозных обрядов;

- интеграция в существующую социальную структуру Российского общества.

По 2 балла за каждый верно приведённый аргумент. Всего 6 баллов.

5. Фрагмент текста, который необходимо найти и выписать: «... напротив чего от благодарности новых наших подданных требуем и ожидаем Мы, что они в счастливом своем презрении из мятежа и неуройства в мир, тишину и порядок законный потщатся верностью, усердием и благонаравием уподобиться древним нашим подданным и заслуживать наравне с ними монаршую нашу милость и щедроту».

Объяснение: Крым представлял собой одну из наиболее важных в стратегическом отношении территорий для Российской империи, должен был стать базой Черноморского флота и форпостом России на Черном море, в связи с чем обеспечение лояльности населения этой территории было насущной необходимостью для России. *Ответ может быть дан в иных формулировках, не искажающих смысла.*

2 балла за правильный фрагмент.

3 балла за приведенное объяснение.

Всего 5 баллов.

Всего за задание 25 баллов.