

ВСЕРОССИЙСКАЯ ОЛИМПИАДА ШКОЛЬНИКОВ

ПО ИСТОРИИ 2020–2021 учебный год

МУНИЦИПАЛЬНЫЙ ЭТАП

10 класс

**Критерии и указания
к оцениванию.**

Максимальное количество баллов за работу -100.

Желаем успеха!

Часть I

В заданиях 1–3 дайте один верный ответ. Ответ внесите в таблицу.

1. В каком году, согласно летосчислению от сотворения мира, произошло описанное ниже событие?

«Когда Ярослав был в Новгороде, пришла к нему весть, что печенеги осадили Киев. Ярослав собрал воинов многих, варягов и словен, пришел к Киеву и вошел в город свой. А было печенегов без числа. Ярослав выступил из города, и исполнил дружину, и поставил варягов посредине, а на правой стороне – киевлян, а на левом крыле – новгородцев; и стал пред градом. И была сеча жестокая, и едва к вечеру одолел Ярослав. И побежали печенеги врассыпную, и не знали, куда бежать, одни, убегая, тонули в Сетомли, иные же в других реках, а остаток их бегают где-то и до сего дня»

- 1) 6544 г. 3) 6562 г.
2) 6527 г. 4) 6633 г.

2. Какие земли были присоединены к России в первой половине XIX в.?

- 1) Бессарабия, Финляндия, территория герцогства Варшавского;
2) Бессарабия, Западная Украина, Финляндия;
3) Западная Украина, территория великого княжества Литовского, Финляндия;
4) Крымский полуостров, Финляндия, Казахстан.

3. Когда правил монарх, отрывок из указа которого приведен ниже?

«Если кто из помещиков пожелает отпустить благоприобретённых или родовых крестьян своих поодиночке или и целым селением на волю и вместе с тем утвердить им участок земли или целую дачу, то сделав с ними условия какие по обоюдному согласию признаются лучшими, имеет представить их при прошении своём через губернского дворянского предводителя к министру внутренних дел для рассмотрения нам; и если последует от нас решение желанию его согласное: тогда предъявятся сии условия в Гражданской палате и запишутся у крепостных дел со взносом узаконенных пошлин»

- 1) 1730–1740 гг. 3) 1796–1801 гг.
2) 1741–1761 гг. 4) 1801–1825 гг.

Ответ:

1	2	3
1	1	4

По 1 баллу за каждый верный ответ. Всего 3 балла.

4. В этом отрывке из стихотворения поэт воспроизвел настроения, царившие в русской армии на первом этапе военной кампании начала XIX в. прочитайте данный отрывок и ответьте на вопросы:

«Мы долго молча отступали,
Досадно было, боя ждали.
Ворчали старики:
«Что ж мы на зимние квартиры?
Не смеют, что ли командиры
Чужие изорвать мундиры
О русские штыки?»»

1. О какой военной кампании идет речь?
2. Где и когда состоялось ожидаемое генеральное сражение?
3. Кто является автором стихотворения и как оно называется?

Ответ: 1. Об Отечественной войне 1812 года

2. Бородинское сражение 26 августа (7 сентября) 1812 года

3. М.Ю. Лермонтов «Бородино»

По 1 баллу за каждый верный ответ. Всего 3 балла.

5. Распределите на две группы понятия, которые относятся к XVIII в. или XIX в.

- 1) дворцовые перевороты; 2) временнообязанный крестьянин; 3) «бироновщина»,
4) «аракчеевщина»; 5) империя; 6) министерства

Ответ:

XVIII в.	XIX в.
1,3,5	2,4,6

За каждое правильное соотнесение века с событиями по 2 балла. Всего 4 балла.

6. Прочитайте фрагменты текстов и определите названия населенных пунктов, связанных с военными событиями 1812 года.

1. «В этой деревне 1 сентября 1812 г. М.И. Кутузов сказал: «Что бы ни случилось, я принимаю на себя ответственность перед государем, Отечеством и армией».
2. «Пока будет еще существовать армия и находиться в состоянии противиться неприятелю, до тех пор останется еще надежда с честью окончить войну, но при уничтожении армии, не только ..., но и вся Россия была бы потеряна».
3. «Войска наши дрались с удивительной храбростью, неприятельские стрелки, конные и пешие, шесть раз были опрокидываемы с большим уроном. ...неприятелю достались одни развалины за многочисленную потерю его армии».
4. Здесь Наполеон бросил свою армию: «Что мне до этих уродов! Пусть выпутываются, как могут».
5. «Вокруг него свистели даже пули, окружающие упрашивали его удалиться, он оставался... на месте: дело шло о результатах всего похода».

Ответ:

1. Фили
2. Москва
3. Смоленск
4. Вильно
5. Малоярославец

По 1 баллу за верное название населенного пункта. Всего 5 баллов.

7. Установите соответствия между известным высказыванием о российском правителе с его характеристикой и именем. Запишите в таблицу выбранные цифры под соответствующими буквами.

Характеристика	Имя царя
А) «Тишайший» царь	1) Петр III
Б) «Не способнейший, а удобнейший царь»	2) Иван IV
В) «Он позволил свергнуть себя с престола, как ребенок, которого посылают спать»	3) Алексей Михайлович
	4) Михаил Федорович

Ответ:

А	Б	В
3	4	1

3 балла за полностью верное соотнесение.

8. Определите, какое событие отражено в приведенных отрывках из документов. Определите с максимально возможной точностью время создания документа.

1. «А христианом отказыватися из волости в волость, из села в село один срок в году, за неделю до Юрьева дня осеннего и неделя после... Дворы пожилые платить в полах за двор рубль, а в лесах полтина...».

2. «С Волги идти в Русь против государевых неприятелей и изменников, чтоб им из Московского государства вывести изменников бояр и думных людей и в городех воевод и приказных людей ... и чорным людям дать свободу».

3. «Даст Бог, преже суда тово Христова, взявше Никона, разобью ему рыло... Собака, смутил нашу землю... А царя Алексея велю Христу на суде поставить. Тово мне надобне шелепами медянными попарить».

Ответ:

1. Введение Юрьева дня. Судебник Ивана III 1497 г.

2. Из призывов на кругу атамана Степана Разина. 1670-1671 гг.

3. Протопоп Аввакум по поводу реформы Никона и поддержавшего его царя Алексея Михайловича. Вторая половина XVII в.

По 3 балла за каждый правильный ответ. Всего за задание – 9 баллов.

9. На территории какого современного государства находятся указанные ниже города?

- 1) г. Нарва 2) г. Тмутаракань 3) г. Полоцк

Ответ:

1	Эстония
2	Россия
3	Белоруссия

По 2 балла за каждый правильный ответ. Всего за задание – 6 баллов.

10. Как в наше время называются эти реки?

- 1) Итиль 2) Борисфен 3) Яик

Ответ:

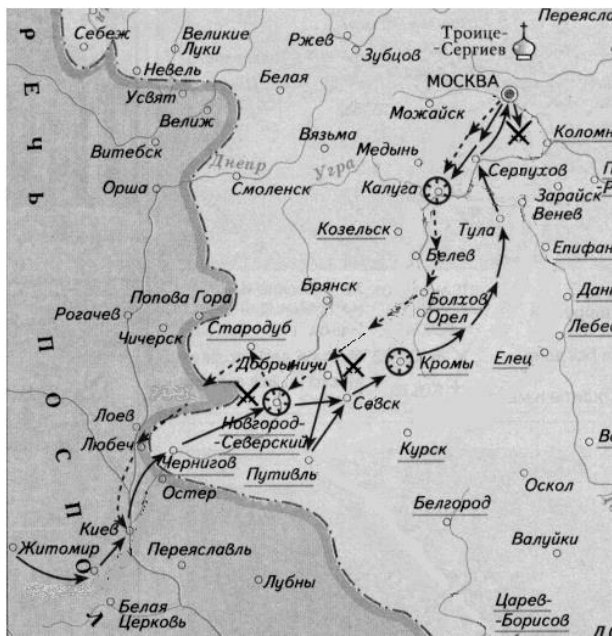
1	Волга
2	Днепр
3	Урал

По 2 балла за каждый правильный ответ. Всего за задание – 6 баллов.

11. Перед вами 4 пронумерованных портрета и карта.

1. Определите, кто изображен на каждом портрете (не забудьте указать их номера).

2. С кем из данных исторических деятелей связана предложенная карта. Почему? Дайте краткий ответ.



1. _____
 1. _____
 2. _____
 3. _____
 4. _____
 2. _____

Ответ:1.

1 – Степан Разин, 2 – Лжедмитрий I, 3 – Лжедмитрий II, 4 – Богдан Хмельницкий.

2. Карта – схема движения войска Лжедмитрия I.

По 1 баллу за определение каждого персонажа, 2 балла за правильное соотнесение персонажа и карты и объяснение этого соотнесения. Всего 6 баллов.

12. Г.Е. Миронов в «Истории государства Российского» заметил: «Есть величественные памятники русскому царю-освободителю в центре Софии и Хельсинки. Отечество достойным монументом великого реформатора не почтило». Попытайтесь возразить историку, опираясь на краеведческий материал.

Ответ: *В XIX веке на Соборной площади г. Владимира был установлен памятник царю – освободителю.*

4 балла за правильный ответ.

13. В истории существует значительное число устойчивых фраз и выражений. Укажите, какое событие или явление обозначает каждое из приведённых выражений, и кратко объясните, почему данное событие или явление получило такое название.

Ответ: *«Затейка верховников» – попытка установления в Российской империи ограниченной монархии, предпринятая Верховным тайным советом и частью дворянства в январе - феврале 1730 года после приглашения на престол Анны Иоановны.*

«Тушинский вор» – оскорбительное прозвище «Тушинский вор» досталось самозваному русскому царю Лжедмитрию II по расположению его резиденции в подмосковном Тушино.

По 2 балла за каждый верный ответ; 1 балл за пояснение с незначительными неточностями. Всего за задание 4 балла.

14. Рассмотрите фотографию и ответьте на вопросы.




1. Какое событие изображено на фотографии? *Водружение Знамени Победы над Рейхстагом.*
2. Когда оно произошло? *1 мая 1945 года (можно принять и 9 мая).*
3. Кто изображен на фото? *Егоров и Кантария.*

По 2 балла за каждый верный ответ. Всего 6 баллов.

15. Рассмотрите изображения исторических личностей, родившихся или связанных с Владимирским краем. Назовите их и кратко проанализируйте основные направления их деятельности, ее результаты и связь этих людей с нашим краем.

№	Изображение (укажите имя)	Характеристика
1		А.В. Суворов



2




М.М. Сперанский

3



Н.Г. Столетов

4		Д.М. Пожарский
---	---	----------------

По 1 баллу за верное определение исторической личности, до 3-х баллов за каждую характеристику и определение связи исторического деятеля с краем. Всего 16 баллов.

Часть 2.

Вам предстоит работать с высказываниями историков и современников о событиях и деятелях отечественной истории. Выберите из них одно – оно и станет темой Вашего сочинения – эссе. Ваша задача - сформулировать собственное отношение к данному утверждению и обосновать его аргументами.

При выборе темы исходите из того, что Вы:

1. ясно понимаете смысл высказывания (не обязательно полностью или даже частично быть согласным с автором, но необходимо понимать, что именно он утверждает);
2. можете выразить своё отношение к высказыванию (аргументированно согласиться с автором либо полностью или частично опровергнуть его высказывание);
3. располагаете конкретными знаниями (факты, статистические данные, примеры) по данной теме;
4. владеете терминами, необходимыми для грамотного изложения своей точки зрения.

При написании работы постарайтесь исходить из того, что жюри, оценивая Ваше эссе, будет руководствоваться следующими критериями:

1. обоснованность выбора темы (объяснение проблемы, которая заложена в данном высказывании);
2. грамотность использования исторических фактов и терминов;
3. чёткость и доказательность основных положений работы;
4. знание различных точек зрения по избранному вопросу;
5. наличие обоснованных выводов.

Темы:

- 1) «Византийские походы вызывались, большею частью, стремлением Руси поддержать или восстановить порывавшиеся торговые сношения с Византией. Вот почему они оканчивались обыкновенно торговыми трактатами. Такой торговый характер имеют все дошедшие до нас договоры Руси с греками X в.». (*В. О. Ключевский*)
- 2) «Вся политика Ивана III по отношению к младшим князьям-братьям, к Новгороду и Твери – прямое продолжение мероприятий, какими в 50-е гг. XV в. ликвидировали итоги московской смуты». (*А.Е. Пресняков*)
- 3) «Он (Фёдор Алексеевич), а не Пётр, открыл новый маршрут для России. Младший брат лишь продолжил дело старшего, который успел заложить основу для полного переворота в жизни государства». (*Д.М. Володихин*)
- 4) «Екатерининский переворот 1762 года ознаменовал зарю новой эры. Она, Мать Отечества, свергла Петра III, который выглядел как иностранец, а не как русский, поступающий как иностранец. Страна окончательно стала равной Европе по уровню политической культуры». (*Р. Уортман*)
- 5) «Неудачная крестьянская реформа 1861 года определила направление политических реформ, которые носили половинчатый характер и привели к кризису власти». (*П.Н. Зайончковский*)

До 5 баллов по каждому критерию.

Всего 25 баллов.