

# ВСЕРОССИЙСКАЯ ОЛИМПИАДА

## ШКОЛЬНИКОВ ПО ИСТОРИИ.

### МУНИЦИПАЛЬНЫЙ ЭТАП.

#### 7 КЛАСС.

2018 – 2019 учебный год

*Уважаемый участник!*

При выполнении заданий Вам предстоит выполнить определённую работу, которую лучше организовать следующим образом: внимательно прочитайте задание; если Вы отвечаете на теоретический вопрос или решаете ситуационную задачу, обдумайте и сформулируйте конкретный ответ (ответ должен быть кратким), его содержание впишите в отведённое поле, запись ведите чётко и разборчиво; при ответе на тесты определите верный ответ и впишите в отведённое поле цифру(-ры).

*Максимальное количество баллов за работу - 100.*

*Желаем успеха!*

*В заданиях 1–3 дайте один верный ответ. Ответ внесите в таблицу.*

1. В каком году, согласно летоисчислению от сотворения мира, произошло событие, описанное в приведённом отрывке?

«Изгнали варяг за море, и не дали им дани, и начали сами собою владеть, и не было среди них правды, и встал род на род, и была у них усобица, и стали воевать друг с другом. И сказали себе: «Поищем себе князя, который бы владел нами и судил по праву». И пошли за море к варягам, к руси. Те варяги назывались русью, как другие называются шведы, а иные норманны и англыв, а еще иные готландцы...»

1) 6415 г.

3) 6677 г.

2) 6370 г.

4) 6525 г.

2. О каком художнике идет речь?

«В 70-е годы 14 века мастер был приглашен на Русь. Его первой работой стала роспись церкви Спаса на Ильине улице в Новгороде. Позднее он работал в Москве, Коломне, Нижнем Новгороде. Среди икон, написанных иконописцем особенно выразительны «Богоматерь Донская» и «Преображение».

1) Андрей Рублев

2) Даниил Чёрный

3) Феофан Грек

4) Дионисий

3. Важнейшая историческая заслуга князя Ивана Калиты состояла в
- 1) принятии первого свода законов «Русская правда»
  - 2) освобождении Руси от ордынской зависимости
  - 3) создании первого общерусского Судебника
  - 4) усилении роли Москвы как центра объединения русских земель

**Ответ:**

1	2	3

**Всего 6 баллов за задания 1–3.**

**В заданиях 4–6 выберите по 3 верных ответа из предложенных. Ответы внесите в таблицу.**

4. Какие памятники древнерусской архитектуры Владимиро-Суздальского княжества были построены при князе А. Боголюбском?

- |                             |                       |
|-----------------------------|-----------------------|
| 1) Церковь Бориса и Глеба   | 4) Успенский собор    |
| 2) Церковь Покрова на Нерли | 5) Золотые ворота     |
| 3) Дмитриевский собор       | 6) Георгиевский собор |

5. Выберите из приведённого списка имена исторических личностей, чья деятельность относится к XV веку.

- |                            |                          |
|----------------------------|--------------------------|
| 1) Жанна д'Арк             | 4) Вильгельм Завоеватель |
| 2) Всеволод Большое Гнездо | 5) Андрей Рублёв         |
| 3) Сергей Радонежский      | 6) Иоганн Гутенберг      |

6. Какие из перечисленных городов были приобретены Иваном Калитой?

- |                         |              |
|-------------------------|--------------|
| 1) Переславль-Залесский | 4) Кострома  |
| 2) Углич                | 5) Галич     |
| 3) Торжок               | 6) Белозерск |

**Ответ:**

<b>4</b>	<b>5</b>	<b>6</b>

**Всего 9 баллов за задания 4–6.**

7. Перед Вами список событий, произошедших в правление трёх разных русских князей. Ответы оформите в виде таблицы. Запишите в верхнюю строку таблицы имена князей, а в нижнюю – порядковые номера соответствующих каждому князю событий.

- 1) первое летописное упоминание о Москве
- 2) поход Дюденевой рати
- 3) битва на Калке
- 4) перенос столицы своего княжества в Суздаль
- 5) Дмитровский съезд русских князей
- 6) основание городов Переславль (Переславль-Залесский) и Дмитров
- 7) походы Батгя на Русь
- 8) строительство Даниловского монастыря в Москве
- 9) коронация короля Руси Римским папой Иннокентием IV

**Ответ:**

<b>Князь</b>			
<b>Событие</b>			

Всего 9 баллов.


8. Дайте краткое обоснование ряда (что объединяет перечисленные элементы) и укажите, какой из элементов является лишним по данному основанию.

8.1. Мстислав Удатный, Джебe, Александр Невский, Котян.

8.2.



А.



Б.



В.



Г.

**Ответ**

8.1. \_\_\_\_\_

8.2. \_\_\_\_\_

**Всего 8 баллов.**

9. Впишите правильную букву (правильные буквы) вместо пропусков:

1. ...рдынский выход, б...с...рмены, б...скаки, ...рлык, н...й...н.

2. Р...формация, к...льв...низм, пр...тес...ан...ство, лют...ранство, .....зуйты.

**Максимально 16 баллов.**

10. Соотнесите имена князей с прозвищами, под которыми они вошли в историю.

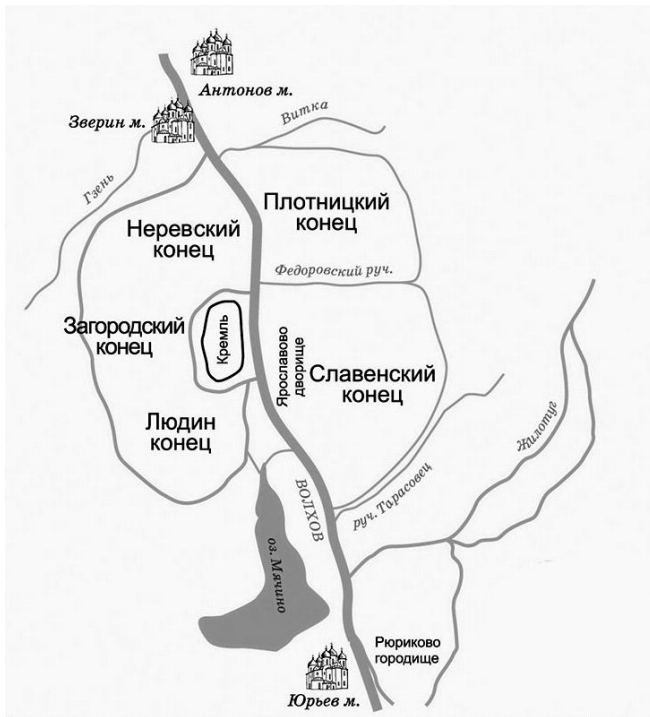
А) Всеволод Юрьевич	1) Красное Солнышко
Б) Ярослав Владимирович	2) Темный
В) Симеон Иванович	3) Великий
Г) Мстислав Владимирович	4) Большое Гнездо
Д) Василий Васильевич	5) Гордый
Е) Владимир Святославович	6) Мудрый

**Ответ:**

А	Б	В	Г	Д	Е

**Всего 6 баллов.**

**11.** Рассмотрите план города и выполните задание.



(м– монастырь)

Согласны ли Вы с приведёнными утверждениями? Впишите в таблицу напротив порядковых номеров верных утверждений «Верно», напротив ложных утверждений – «Неверно». Ответы внесите в таблицу в бланке работы.

- 1) Город, план которого представлен, основан в X веке.
- 2) Городище, обозначенное на плане, было резиденцией всех князей, правивших в этом городе в XI веке.
- 3) Собор, выстроенный первым русским зодчим, имя которого называют летописи, расположен в одном из монастырей, обозначенных на плане.
- 4) Дворище, обозначенное на плане, носит имя князя, при котором был создан первый письменный свод законов Руси.
- 5) В Кремле, обозначенном на схеме, находится собор, заложенный в правление князя, при котором произошло крещение Руси.

**Ответ:**

<b>1</b>	
----------	--

2	
3	
4	
5	

**Всего 10 баллов.**

12. Ниже приведены высказывания Н.М. Карамзина о великих русских князьях Рюриковичах. Определите, о ком писал великий историк. Ответ перенесите в таблицу.

- 1) «.. За неизменную удачливость в военных походах, за удаль и смекалку прозвал народ князя ... Вещим»
- 2) «(ей) предстояло сохранить власть и единство Руси, чтобы передать их законному наследнику по достижении им совершеннолетия»
- 3) «уверенный в непобедимости своей дружины, никогда не нападал на врага врасплох, всякий раз предупреждая: «Иду на Вы!»
- 4) «...заслужил в летописях имя государя мудрого; не приобрел оружием новых земель, но возвратил утраченное Россиею в бедствиях междоусобия; не всегда побеждал, но всегда оказывал мужество; успокоил отчество и любил народ свой»
- 5) «За веру, за любовь к Отечеству, за сохранение целостности Руси православная церковь причислила .... к лику святых».

1	
2	
3	
4	
5	

**Всего 10 баллов.**

13. В описании владений одного монастыря в X в. сказано, что крестьянин имеет полный надел земли. Он платит за него одну свинью, фунт льна, трёх кур, 18 яиц. Согласно обычаю, в течение недели пасёт в лесу свиней. По три дня в неделю в течение всего года обрабатывает участок господского поля, в жатву убирает урожай, а во время сенокоса косит стог сена, работает в барской усадьбе. Его жена должна ткать холщовую одежду.

Укажите какие из перечисленных повинностей составляют барщину, а какие — оброк?

**Ответ:**

**Барщина:** \_\_\_\_\_

**Оброк:** \_\_\_\_\_

**Максимально 10 баллов.**

14. Установите соответствие между старославянским названием месяца и современным названием.

**Современные названия**

1) январь 2) февраль 3) март 4) апрель 5) май 6) июнь 7) июль 8) август  
9) сентябрь 10) октябрь 11) ноябрь 12) декабрь

**Старославянское название.**

А) сечень Б) вересень В) березень Г) студень Д) серпень Е) липень Ж) травень  
З) лютедь И) листопад К) червень Л) цветень М) грудень

**Ответ:**

1	2	3	4	5	6	7	8	9	10	11	12

**Максимально 12 баллов.**

15. В каком городе и на фасаде какого древнего храма Владимирского края расположено это странное животное похожее на слона?



**Ответ:** \_\_\_\_\_

**Максимально 4 балла.**

**ВСЕРОССИЙСКАЯ ОЛИМПИАДА  
ШКОЛЬНИКОВ ПО ИСТОРИИ  
МУНИЦИПАЛЬНЫЙ ЭТАП**

**7 КЛАСС.**

**2018 – 2019 учебный год**

***Критерии и указания к оцениванию***

***Максимальное количество баллов за работу - 100.***

***В заданиях 1–3 дайте один верный ответ. Ответ внесите в таблицу.***

1. В каком году, согласно летоисчислению от сотворения мира, произошло событие, описанное в приведённом отрывке?

«Изгнали варяг за море, и не дали им дани, и начали сами собою владеть, и не было среди них правды, и встал род на род, и была у них усобица, и стали воевать друг с другом. И сказали себе: «Поищем себе князя, который бы владел нами и судил по праву». И пошли за море к варягам, к руси. Те варяги назывались русью, как другие называются шведы, а иные норманны и англы, а еще иные готландцы...»

- 1) 6415 г.                                      3) 6677 г.  
2) 6370 г.                                      4) 6525 г.

2. О каком художнике идет речь?

«В 70-е годы 14 века мастер был приглашен на Русь. Его первой работой стала роспись церкви Спаса на Ильине улице в Новгороде. Позднее он работал в Москве, Коломне, Нижнем Новгороде. Среди икон, написанных иконописцем особенно выразительны «Богоматерь Донская» и «Преображение».

- 1) Андрей Рублев  
2) Даниил Чёрный  
3) Феофан Грек  
4) Дионисий

3. Важнейшая историческая заслуга князя Ивана Калиты состояла в

- 1) принятии первого свода законов «Русская правда»  
2) освобождении Руси от ордынской зависимости  
3) создании первого общерусского Судебника  
4) усилении роли Москвы как центра объединения русских земель

**Ответ:**

1	2	3
2	3	4



**По 2 балла за каждый верный ответ.**

**Всего 6 баллов за задания 1–3.**

**В заданиях 4–6 выберите по 3 верных ответа из предложенных.**

**Ответы внесите в таблицу.**

**4. Какие памятники древнерусской архитектуры Владимиро-Суздальского княжества были построены при князе А. Боголюбском?**

- |                             |                       |
|-----------------------------|-----------------------|
| 1) Церковь Бориса и Глеба   | 4) Успенский собор    |
| 2) Церковь Покрова на Нерли | 5) Золотые ворота     |
| 3) Дмитриевский собор       | 6) Георгиевский собор |

**5. Выберите из приведённого списка имена исторических личностей, чья деятельность относится к XV веку.**

- |                            |                          |
|----------------------------|--------------------------|
| 1) Жанна д'Арк             | 4) Вильгельм Завоеватель |
| 2) Всеволод Большое Гнездо | 5) Андрей Рублёв         |
| 3) Сергей Радонежский      | 6) Иоганн Гутенберг      |

**6. Какие из перечисленных городов были приобретены Иваном Калитой?**

- |                         |              |
|-------------------------|--------------|
| 1) Переславль-Залесский | 4) Кострома  |
| 2) Углич                | 5) Галич     |
| 3) Торжок               | 6) Белозерск |

**Ответ:**

4	5	6
245	156	256

**По 3 балла за полностью верный ответ на каждое задание; 2 балла за ответ с одной ошибкой (не указан один из верных ответов или наряду с указанными верными ответами приводится один неверный).**

**Всего 9 баллов за задания 4–6.**

**7. Перед Вами список событий, произошедших в правление трёх разных русских князей. Ответы оформите в виде таблицы. Запишите в верхнюю строку таблицы**

имена князей, а в нижнюю – порядковые номера соответствующих каждому князю событий.

- 1) первое летописное упоминание о Москве
- 2) поход Дюденевой рати
- 3) битва на Калке
- 4) перенос столицы своего княжества в Суздаль
- 5) Дмитровский съезд русских князей
- 6) основание городов Переславль (Переславль-Залесский) и Дмитров
- 7) походы Батые на Русь
- 8) строительство Даниловского монастыря в Москве
- 9) коронация короля Руси Римским папой Иннокентием IV

**Ответ:**

<b>Князь</b>	Даниил Галицкий	Юрий Долгорукий	Даниил Александрович
<b>Событие</b>	379	146	258


**По 1 баллу за каждый правильный критерий (имя правителя). По 2 балла за правильное определение событий, 1 балл в случае 1 ошибки.**

**Всего 9 баллов.**

8. Дайте краткое обоснование ряда (что объединяет перечисленные элементы) и укажите, какой из элементов является лишним по данному основанию.


8.1. Мстислав Удатный, Джеббе, Александр Невский, Котян.

8.2.



А.

Б.





В .



Г .

**Ответ**

**8.1.** Участники битвы на Калке (1223 г.). Лишнее имя: Александр Невский.

**8.2.** Произведения древнерусской живописи (иконописи). Лишнее: произведение западноевропейской живописи (может быть указано только буквенное обозначение **В**).

*Ответы могут быть даны в иных, близких по смыслу формулировках.*

**По 4 баллов за каждый верный ответ. 3 балла за указание принципа объединения, 1 балл за указание лишнего элемента.**

**Всего 8 баллов.**

9. Впишите правильную букву (правильные буквы) вместо пропусков:

1. ...рдынский выход, б...с...рмены, б...скаки, ...рлык, н...й...н.

2. Р...формация, к...льв...низм, пр...тес...ан...ство, лют...ранство, .....зуиты.

**Ответ.**

1. Ордынский выход, бесермены, баскаки, ярлык, нойон.

2. Реформация, кальвинизм, протестантство, лютеранство, иезуиты.

**По 1 баллу за каждую верно вставленную букву. Максимально 16 баллов.**

10. Соотнесите имена князей с прозвищами, под которыми они вошли в историю.

А) Всеволод Юрьевич	1) Красное Солнышко
---------------------	---------------------

Б) Ярослав Владимирович	2) Темный
В) Симеон Иванович	3) Великий
Г) Мстислав Владимирович	4) Большое Гнездо
Д) Василий Васильевич	5) Гордый
Е) Владимир Святославович	6) Мудрый

**Ответ:**

А	Б	В	Г	Д	Е
4	6	5	3	2	1

**6 баллов за полностью верное соответствие; 4 балла за ошибку в 1 паре, 2 балла за ошибки в 2 парах; 0 баллов, если допущено больше ошибок.**

**Всего 6 баллов.**

**11. Рассмотрите план города и выполните задание.**



(м– монастырь)

Согласны ли Вы с приведёнными утверждениями? Впишите в таблицу напротив порядковых номеров верных утверждений «Верно», напротив ложных утверждений – «Неверно». Ответы внесите в таблицу в бланке работы.

- 1) Город, план которого представлен, основан в X веке.
- 2) Городище, обозначенное на плане, было резиденцией всех князей, правивших в этом городе в XI веке.
- 3) Собор, выстроенный первым русским зодчим, имя которого называют летописи, расположен в одном из монастырей, обозначенных на плане.

- 4) Дворище, обозначенное на плане, носит имя князя, при котором был создан первый письменный свод законов Руси.
- 5) В Кремле, обозначенном на схеме, находится собор, заложенный в правление князя, при котором произошло крещение Руси.

**Ответ:**

1	Неверно
2	Неверно
3	Верно
4	Верно
5	Неверно

**По 2 балла за каждый верный ответ.**

**Всего 10 баллов.**

12. Ниже приведены высказывания Н.М. Карамзина о великих русских князьях Рюриковичах. Определите, о ком писал великий историк. Ответ перенесите в таблицу.

- 1) «.. За неизменную удачливость в военных походах, за удаль и смекалку прозвал народ князя ... Вещим»
- 2) « (ей) предстояло сохранить власть и единство Руси, чтобы передать их законному наследнику по достижении им совершеннолетия»
- 3) «уверенный в непобедимости своей дружины, никогда не нападал на врага врасплох, всякий раз предупреждая: «Иду на Вы!»»
- 4) «...заслужил в летописях имя государя мудрого; не приобрел оружием новых земель, но возвратил утраченную Россию в бедствиях междоусобия; не всегда побеждал, но всегда оказывал мужество; успокоил отчество и любил народ свой»
- 5) «За веру, за любовь к Отечеству, за сохранение целостности Руси православная церковь причислила .... к лику святых».

1	Олег
2	Ольга
3	Святослав Игоревич
4	Ярослав Мудрый
5	Александр Невский

**По 2 балла за каждый верный ответ.**

**Всего 10 баллов.**

13. В описании владений одного монастыря в X в. сказано, что крестьянин имеет полный надел земли. Он платит за него одну свинью, фунт льна, трёх кур, 18 яиц. Согласно обычаю, в течение недели пасёт в лесу свиней. По три дня в неделю в

течение всего года обрабатывает участок господского поля, в жатву убирает урожай, а во время сенокоса косит стог сена, работает в барской усадьбе. Его жена должна ткать холщовую одежду.

Укажите какие из перечисленных повинностей составляют барщину, а какие — оброк?

**Ответ:**

**Барщина:** пасёт свиней, обрабатывает участок господского поля, убирает урожай, косит стог сена, работает в барской усадьбе, жена должна ткать холщовую одежду.

**Оброк:** платит одну свинью, фунт льна, трёх кур, 18 яиц.

**По 1 баллу за каждое верное соотнесение. Максимально 10 баллов.**

14. Установите соответствие между старославянским названием месяца и современным названием.

**Современные названия**

1) январь 2) февраль 3) март 4) апрель 5) май 6) июнь 7) июль 8) август  
9) сентябрь 10) октябрь 11) ноябрь 12) декабрь

**Старославянское название.**

А) сечень Б) вересень В) березень Г) студень Д) серпень Е) липень Ж) травень  
З) лютень И) листопад К) червень Л) цветень М) грудень

**Ответ:**

<b>1</b>	<b>2</b>	<b>3</b>	<b>4</b>	<b>5</b>	<b>6</b>	<b>7</b>	<b>8</b>	<b>9</b>	<b>10</b>	<b>11</b>	<b>12</b>
<b>А</b>	<b>З</b>	<b>В</b>	<b>Л</b>	<b>Ж</b>	<b>К</b>	<b>Е</b>	<b>Д</b>	<b>Б</b>	<b>И</b>	<b>М</b>	<b>Г</b>

**По 1 баллу за каждое верное соотнесение. Максимально 12 баллов.**

15. В каком городе и на фасаде какого древнего храма Владимирского края расположено это странное животное похожее на слона?



**Ответ:** Георгиевский собор г. Юрьев – Польский

**За каждый элемент ответа по 2 балла. Максимально 4 балла.**